



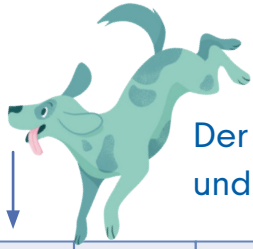
Das Einmaleins von 1 [3]

Einmaleins

Name:

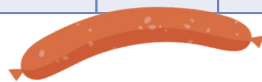
Kannst du die 1er - Reihe so schnell wie möglich aufschreiben?

3	7	5	1	9	10	2	4	9	6	•
										1



Der Hund sucht seinen Weg durch das Labyrinth. Beginne beim Pfeil und male die Antworten der 1er - Reihe aus. Findest du den Weg?

1	2	3	4	9	4	5	1	5	3	5
5	3	7	8	6	10	6	10	4	8	6
5	4	5	6	3	6	1	2	1	9	4
9	4	8	7	8	9	7	7	5	6	7
10	8	9	1	9	3	1	5	3	9	10
3	3	6	4	10	2	3	3	8	6	2



Male jeweils die Aufgabe und die Lösung in der selben Farbe aus.

5 6 $3 \cdot 1 =$ 7 $2 \cdot 1 =$

$9 \cdot 1 =$

$6 \cdot 1 =$ 2 $7 \cdot 1 =$ 9

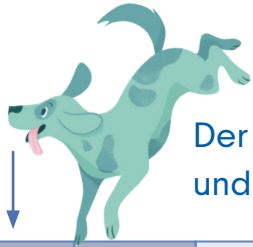
8 10 1 $4 \cdot 1 =$

$5 \cdot 1 =$ $8 \cdot 1 =$ 4 $10 \cdot 1 =$ 3 $1 \cdot 1 =$



Kannst du die 1er - Reihe so schnell wie möglich aufschreiben?

3	7	5	1	9	10	2	4	9	6	•
3	7	5	1	9	10	2	4	9	6	1



Der Hund sucht seinen Weg durch das Labyrinth. Beginne beim Pfeil und male die Antworten der 1er - Reihe aus. Findest du den Weg?

1	2	3	4	9	4	5	1	5	3	5
5	3	7	8	6	10	6	10	4	8	6
5	4	5	6	3	6	1	2	1	9	4
9	4	8	7	8	9	7	7	5	6	7
10	8	9	1	9	3	1	5	3	9	10
3	3	6	4	10	2	3	3	8	6	2



Male jeweils die Aufgabe und die Lösung in der selben Farbe aus.

5

6

3 · 1 =

2 · 1 =

9 · 1 =

7

6 · 1 =

2

7 · 1 =

9

8

10

4 · 1 =

8 · 1 =

10

10 · 1 =

5 · 1 =

4

3

1 · 1 =