



# Das Einmaleins von 6 [4]

## Einmaleins

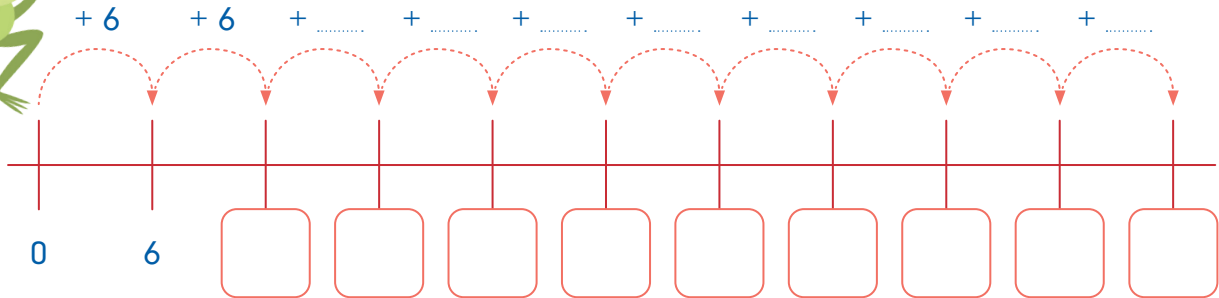
Name: .....

Ergänze die Zahlenreihe.

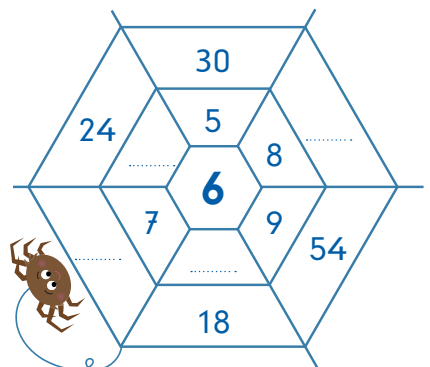
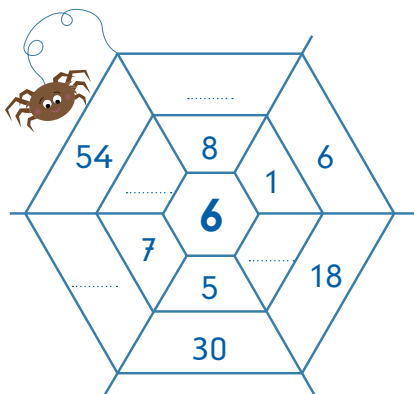
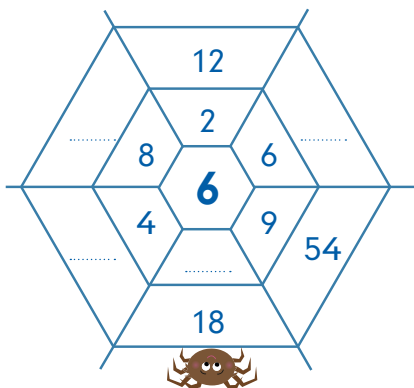
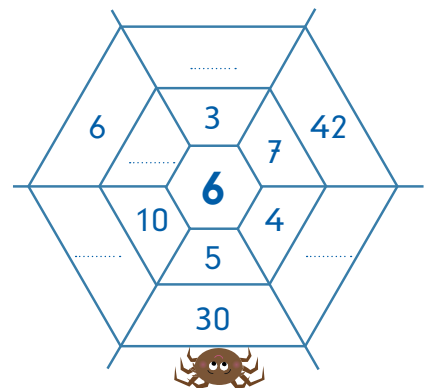
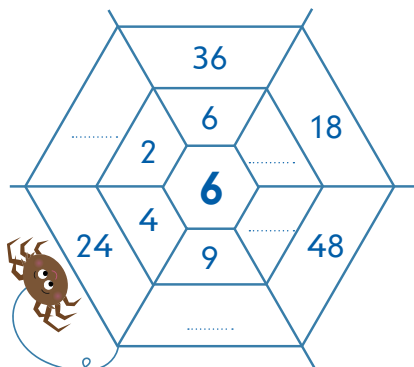
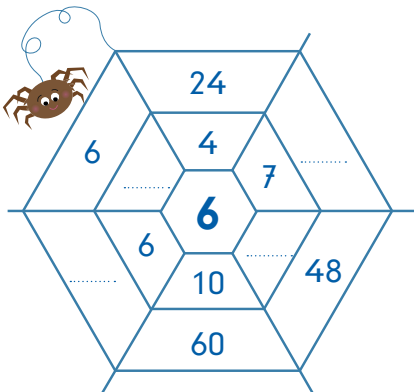
Schreibe die Sprünge und Antworten dazu.



Die Sprünge zeigen dir die Malaufgabe an.



Vervollständige das Netz. Nimm die Zahl in der Mitte mit den Zahlen der mittleren Reihe des Netzes mal und schreibe die Antwort in die äußerste Reihe.

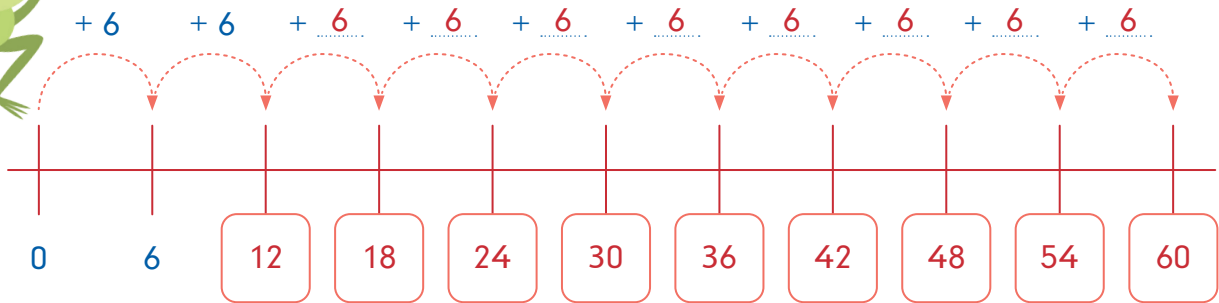




Ergänze die Zahlenreihe.  
Schreibe die Sprünge und Antworten dazu.



Die Sprünge zeigen dir die Malaufgabe an.



Vervollständige das Netz. Nimm die Zahl in der Mitte mit den Zahlen der mittleren Reihe des Netzes mal und schreibe die Antwort in die äußerste Reihe.

